

1. В каком году из указанных ниже было зафиксировано наименьшее число иммигрантов?

**Международная миграция населения в России
(человек)**

Годы	1994	1998	2002	2006	2010
Прибыло	1 355 335	999 657	682 754	670 191	609 457
Выбыло	1 097 016	944 053	729 910	704 044	705 468

- 1) 1998 г.
- 2) 2002 г.
- 3) 2006 г.
- 4) 2010 г.

2. В каком из перечисленных регионов России средняя плотность населения наибольшая?

- 1) Приморский край
- 2) Амурская область
- 3) Вологодская область
- 4) Краснодарский край

3. Определите миграционный прирост населения России в 1994 г. Ответ запишите в виде числа.

**Международная миграция населения в России
(человек)**

Годы	1994	1998	2002	2006	2010
Прибыло	1 355 335	999 657	682 754	670 191	609 457
Выбыло	1 097 016	944 053	729 910	704 044	705 468

4. В каком из перечисленных регионов России средняя плотность населения наибольшая?

- 1) Ростовская область
- 2) Мурманская область
- 3) Республика Коми
- 4) Магаданская область

5. В каком из перечисленных регионов России средняя плотность населения наибольшая?

- 1) Республика Коми
- 2) Архангельская область
- 3) Иркутская область
- 4) Республика Башкортостан

6. В каком из перечисленных регионов России средняя плотность населения наибольшая?

- 1) Красноярский край
- 2) Республика Коми
- 3) Ростовская область
- 4) Хабаровский край

7. В каком из перечисленных регионов России средняя плотность населения наибольшая?

- 1) Красноярский край
- 2) Хабаровский край
- 3) Самарская область
- 4) Республика Бурятия

8. В каком из перечисленных регионов России средняя плотность населения наибольшая?

- 1) Ханты-Мансийский АО — Югра
- 2) Республика Саха (Якутия)
- 3) Чукотский АО
- 4) Омская область

9. В каком из перечисленных регионов России средняя плотность населения наибольшая?

- 1) Республика Коми
- 2) Ненецкий АО
- 3) Сахалинская область
- 4) Омская область

10. В какой из перечисленных областей средняя плотность населения наименьшая?

- 1) Мурманская
- 2) Свердловская
- 3) Новосибирская
- 4) Кемеровская

11. В каком из перечисленных регионов России средняя плотность населения наибольшая?

- 1) Мурманская область
- 2) Хабаровский край
- 3) Республика Татарстан
- 4) Тюменская область

12. В каком из перечисленных регионов России средняя плотность населения наибольшая?

- 1) Самарская область
- 2) Хабаровский край
- 3) Республика Бурятия
- 4) Красноярский край

13. В какой из перечисленных областей средняя плотность населения наименьшая?

- 1) Архангельская
- 2) Нижегородская
- 3) Новосибирская
- 4) Саратовская

14. В каком из перечисленных регионов России средняя плотность населения наибольшая?

- 1) Забайкальский край
- 2) Ямало-Ненецкий АО
- 3) Республика Карелия
- 4) Ставропольский край

15. В какой из перечисленных областей средняя плотность населения наименьшая?

- 1) Липецкая
- 2) Нижегородская
- 3) Ульяновская
- 4) Амурская

16. Какой из перечисленных народов, проживающих на территории России, является наиболее многочисленным?

- 1) коми
- 2) карелы
- 3) татары
- 4) удмурты

17. Какой из перечисленных городов является наибольшим по численности населения?

- 1) Петрозаводск
- 2) Омск
- 3) Иваново
- 4) Иркутск

18. В каком из перечисленных ниже регионов административный центр по численности населения является городом-миллионером?

- 1) Новосибирская область
- 2) Ханты-Мансийский АО — Югра
- 3) Ивановская область
- 4) Республика Коми

19. Какой из перечисленных городов является наибольшим по численности населения?

- 1) Хабаровск
- 2) Ставрополь
- 3) Краснодар
- 4) Екатеринбург

20. В каком из перечисленных ниже регионов административный центр является наибольшим по численности населения?

- 1) Ивановская область
- 2) Республика Тыва
- 3) Ростовская область
- 4) Магаданская область

21. Какой из перечисленных городов является наибольшим по численности населения?

- 1) Ижевск
- 2) Благовещенск
- 3) Казань
- 4) Томск

22. Используя данные таблицы, определите, в каком из перечисленных регионов в 2009г. численность населения была наименьшей.

Демографические показатели отдельных регионов РФ в 2009 г.

Регионы	Общая численность населения, тыс. чел.	Число родившихся (на 1 тыс. чел.)	Число умерших (на 1 тыс. чел.)
Магаданская область	843	12	13
Ульяновская область	1305	11	15
Республика Мордовия	833	10	16
Республика Калмыкия	284	15	11

- 1) Магаданская область
- 2) Ульяновская область
- 3) Республика Калмыкия
- 4) Республика Мордовия

23. Какой из перечисленных городов является наибольшим по численности населения?

- 1) Саратов
- 2) Екатеринбург
- 3) Чита
- 4) Оренбург

24. В каком из перечисленных ниже регионов административный центр является наибольшим по численности населения?

- 1) Омская область
- 2) Чувашская Республика
- 3) Республика Дагестан
- 4) Ивановская область

25. Какой из перечисленных городов является наибольшим по численности населения?

- 1) Казань
- 2) Ставрополь
- 3) Петрозаводск
- 4) Киров

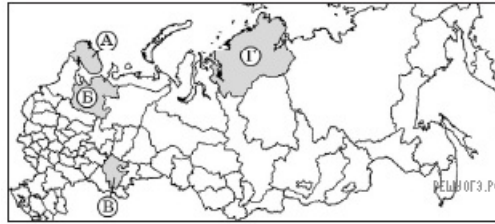
26. Какой из перечисленных городов является наибольшим по численности населения?

- 1) Екатеринбург
- 2) Владимир
- 3) Смоленск
- 4) Владивосток

27. Какой из перечисленных городов имеет наибольшую численность населения?

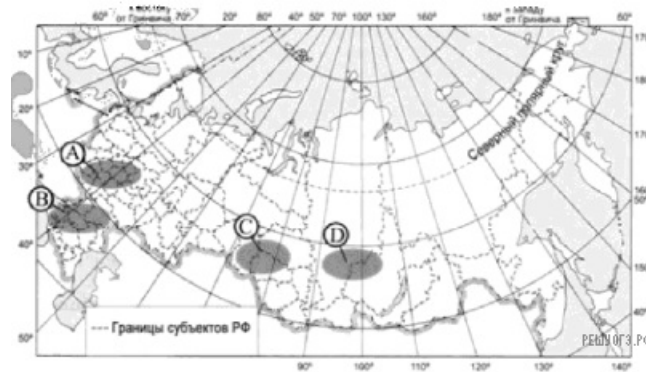
- 1) Мурманск
- 2) Челябинск
- 3) Бийск
- 4) Махачкала

28. Какой из регионов, обозначенных буквами на карте России, имеет наибольшую среднюю плотность населения?



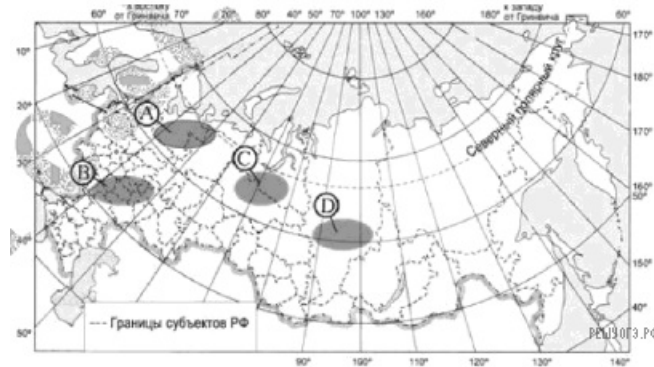
- 1) А
- 2) Б
- 3) В
- 4) Г

29. Какая из территорий, обозначенных буквами на карте России, имеет наименьшую среднюю плотность населения?



- 1) А
- 2) Б
- 3) С
- 4) D

30. Какая из территорий, обозначенных буквами на карте России, имеет наибольшую среднюю плотность населения?



- 1) А
- 2) В
- 3) С
- 4) D

31. В каком из перечисленных регионов России средняя плотность населения наименьшая?

- 1) Белгородская область
- 2) Архангельская область
- 3) Псковская область
- 4) Чувашская Республика

32. В каком из перечисленных регионов России средняя плотность населения наибольшая?

- 1) Архангельская область
- 2) Иркутская область
- 3) Красноярский край
- 4) Ростовская область

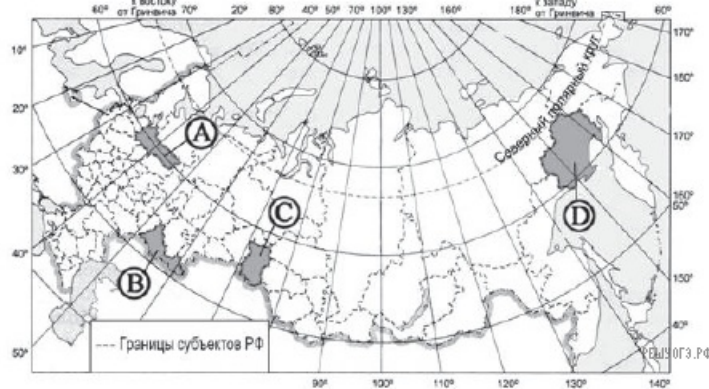
33. В каком из перечисленных регионов России средняя плотность населения наименьшая?

- 1) Чувашская республика
- 2) Ростовская область
- 3) Республика Якутия
- 4) Смоленская область

34. В каком из перечисленных регионов России средняя плотность населения наибольшая?

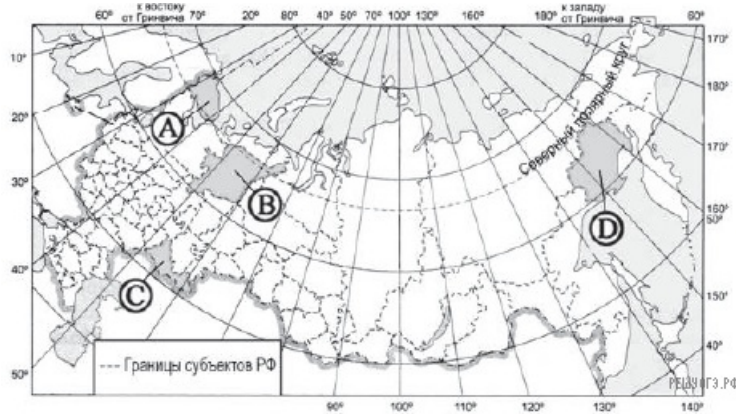
- 1) Мурманская область
- 2) Чувашская Республика
- 3) Магаданская область
- 4) Хабаровский край

35. Какая из территорий, обозначенных буквами на карте России, имеет наименьшую среднюю плотность населения?



- 1) A
- 2) B
- 3) C
- 4) D

36. Какая из территорий, обозначенных буквами на карте России, имеет наибольшую среднюю плотность населения?



- 1) A
- 2) B
- 3) C
- 4) D

37. В каком из перечисленных регионов России средняя плотность населения наибольшая?

- 1) Камчатский край
- 2) Ростовская область
- 3) Мурманская область
- 4) Республика Карелия

38. В какой из перечисленных республик средняя плотность населения наибольшая?

- 1) Тыва
- 2) Коми
- 3) Татарстан
- 4) Саха (Якутия)

39. В каком из перечисленных регионов России средняя плотность населения наименьшая?

- 1) Рязанская область
- 2) Магаданская область
- 3) Самарская область
- 4) Чувашская Республика

40. В каком из перечисленных регионов России средняя плотность населения наименьшая?

- 1) Ставропольский край
- 2) Камчатский край
- 3) Тверская область
- 4) Новосибирская область

41. В какой из перечисленных республик средняя плотность населения наибольшая?

- 1) Бурятия
- 2) Коми
- 3) Марий Эл
- 4) Хакасия

42. В каком из перечисленных регионов России средняя плотность населения наибольшая?

- 1) Камчатский край
- 2) Мурманская область
- 3) Самарская область
- 4) Красноярский край

43. В каком из перечисленных регионов России средняя плотность населения наибольшая?

- 1) Республика Коми
- 2) Магаданская область
- 3) Ненецкий АО
- 4) Краснодарский край

44. В каком из перечисленных регионов России средняя плотность населения наименьшая?

- 1) Ростовская область
- 2) Архангельская область
- 3) Псковская область
- 4) Республика Башкортостан

45. В каком из перечисленных регионов средняя плотность населения наибольшая?

- 1) Архангельская область
- 2) Тюменская область
- 3) Красноярский край
- 4) Курская область

46. В каком из перечисленных регионов России средняя плотность населения наибольшая?

- 1) Камчатский край
- 2) Ростовская область
- 3) Мурманская область
- 4) Республика Карелия

47. В каком из перечисленных регионов России средняя плотность населения наименьшая?

- 1) Камчатский край
- 2) Чувашская Республика
- 3) Нижегородская область
- 4) Смоленская область

48. В каком из перечисленных регионов России средняя плотность населения наименьшая?

- 1) Ленинградская область
- 2) Республика Дагестан
- 3) Иркутская область
- 4) Республика Татарстан

49. В каком из перечисленных регионов России средняя плотность населения наибольшая?

- 1) Магаданская область
- 2) Мурманская область
- 3) Республика Бурятия
- 4) Волгоградская область

50. В какой из перечисленных областей России средняя плотность населения наибольшая?

- 1) Архангельская
- 2) Мурманская
- 3) Ростовская
- 4) Магаданская

51. В каком из перечисленных регионов России средняя плотность населения наибольшая?

- 1) Ненецкий АО
- 2) Хабаровский край
- 3) Мурманская область
- 4) Краснодарский край

52. В каком из перечисленных регионов России средняя плотность населения наибольшая?

- 1) Архангельская область
- 2) Тюменская область
- 3) Республика Коми
- 4) Республика Башкортостан

53. В каком из перечисленных регионов России средняя плотность населения наибольшая?

- 1) Камчатский край
- 2) Республика Коми
- 3) Краснодарский край
- 4) Вологодская область

54. В каком из перечисленных регионов России средняя плотность населения наименьшая?

- 1) Камчатский край
- 2) Волгоградская область
- 3) Республика Татарстан
- 4) Пермский край

55. В каком из перечисленных регионов России средняя плотность населения наибольшая?

- 1) Хабаровский край
- 2) Республика Коми
- 3) Мурманская область
- 4) Республика Татарстан

56. В каком из перечисленных регионов России средняя плотность населения наибольшая?

- 1) Хабаровский край
- 2) Воронежская область
- 3) Республика Карелия
- 4) Ненецкий АО