

**Вариант № 1277364**

1. Какой из перечисленных действующих вулканов Евразии является самым высоким?

- 1) Этна
- 2) Везувий
- 3) Фудзияма
- 4) Ключевская Сопка

2. Запишите название государства, пропущенного в тексте.

Одним из приграничных субъектов РФ является Оренбургская область, которая имеет выход к Государственной границе РФ с \_\_\_\_\_.

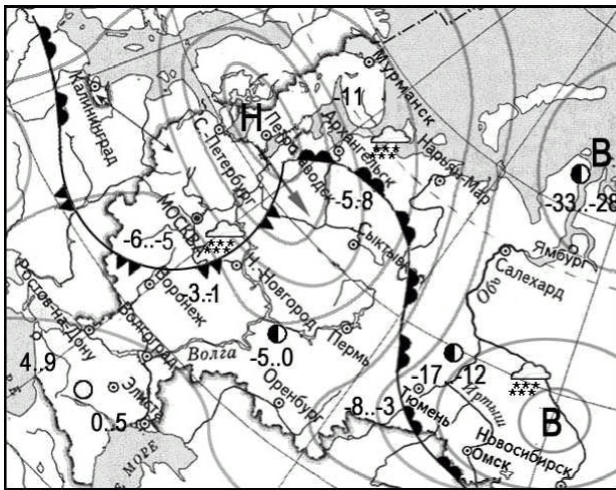
3. Расположите регионы России по степени уменьшения естественного плодородия почв на их территории. Запишите в ответ получившуюся последовательность цифр.

- 1) Ростовская область
- 2) Тверская область
- 3) Республика Коми

4. Традиционным занятием какого из перечисленных народов России является земледелие?

- 1) мордва
- 2) карелы
- 3) чукчи
- 4) ханты

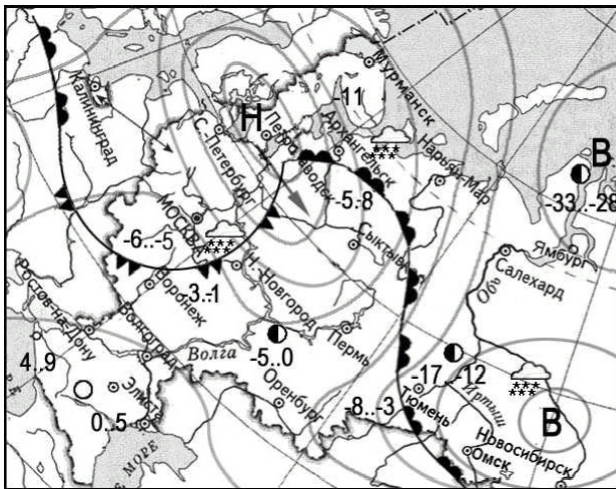
5. Какой из перечисленных городов, показанных на карте, находится в зоне действия антициклона?



ночь	день	температ
-8	-3	воздуха
		теплый
		атмосфе
		фронт
		холодный
		атмосфе
		фронт
<b>В</b>		область вь
		атмосфе
		давления
<b>Н</b>		область нн
		атмосфе
		давления
		направлен
		движения
		циклонов и антици
		ясно
		переменн
		облачно
		облачно
		снег

- 1) Мурманск
- 2) Петрозаводск
- 3) Сыктывкар
- 4) Омск

6. Карта погоды составлена на 15 января 2013 г. В каком из перечисленных населенных пунктов, показанных на карте, на следующий день вероятно существенное потепление?

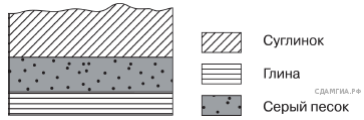


ночь	день	температ
-8	-3	воздуха
		теплый
		атмосфе
		фронт
		холодный
		атмосфе
		фронт
<b>В</b>		область вь
		атмосфе
		давления
<b>Н</b>		область нн
		атмосфе
		давления
		направлен
		движения
		циклонов и антици
		ясно
		переменн
		облачно
		облачно
		снег

- 1) Нижний Новгород
- 2) Воронеж
- 3) Тюмень
- 4) Ямбург

7. Определите, у какой республики в составе РФ столица имеет географические координаты 56° с.ш. и 49° в.д.

8. Во время экскурсии учащиеся сделали схематическую зарисовку залегания горных пород на обрыве у берега реки.

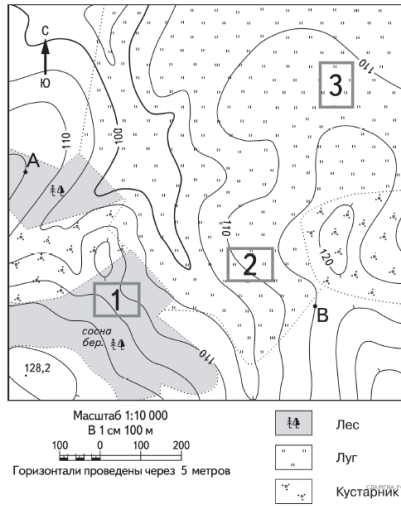


- Суглинок
- Глина
- Серый песок

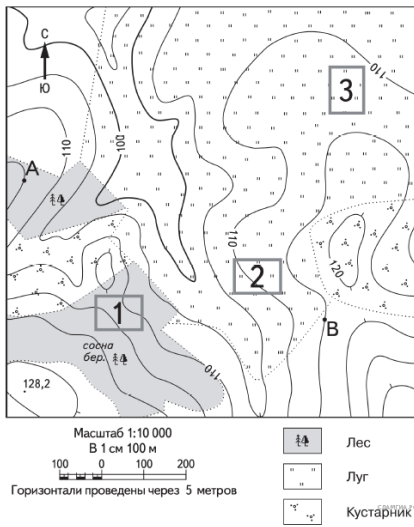
Расположите показанные на рисунке слои горных пород в порядке увеличения их возраста (от самого молодого до самого древнего). Запишите в ответ получившуюся последовательность букв.

- А) серый песок
- Б) глина
- В) суглинок

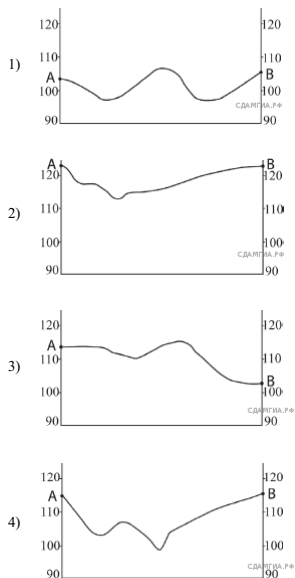
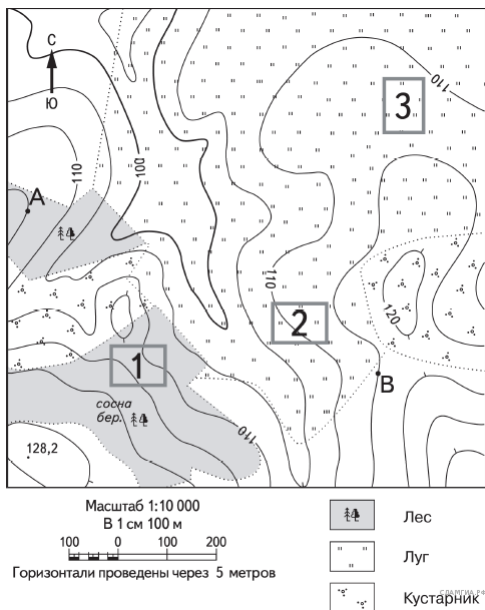
9. Определите по карте расстояние на местности по прямой от точки А до точки с высотой 128,2. Полученный результат округлите до десятков метров. Ответ запишите в виде числа.



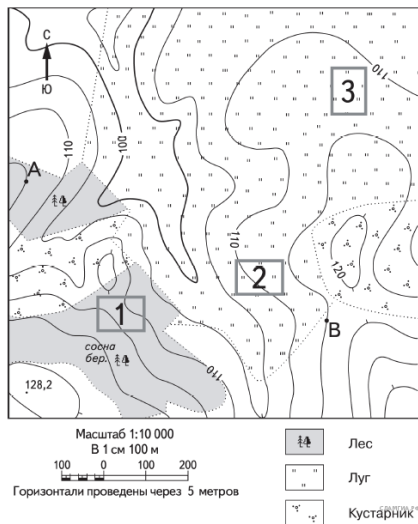
10. Определите по карте, в каком направлении от точки А находится точка с высотой 128,2.



11. На рисунках представлены варианты профиля рельефа местности, построенные на основе карты по линии А—В разными учащимися. Какой из профилей построен верно?



12. Школьники выбирают место для катания на санках. Оцените, какой из участков, обозначенных на карте цифрами 1, 2 и 3, больше всего подходит для этого. Для обоснования своего ответа приведите два довода.



13. Используя данные таблицы «Продукция сельского хозяйства в РФ в 2011 г.», определите долю продукции растениеводства (в %) в общем объёме продукции сельского хозяйства. Полученный результат округлите до целого числа.

**Продукция сельского хозяйства в РФ в 2011 г.  
(миллиардов рублей)**

Продукция сельского хозяйства	3261,7
в том числе:	
растениеводства	1703,5
животноводства	1558,2

14. Такие неблагоприятные климатические явления, как засухи, суховей и пыльные бури значительно затрудняют хозяйственное освоение территории. Для каких двух из перечисленных территорий они наиболее характерны?

- 1) Республика Саха (Якутия)
- 2) Калининградская область
- 3) Ставропольский край
- 4) Приморский край
- 5) Республика Калмыкия

15. Выберите два примера рационального природопользования.

- 1) рекультивация земель на месте карьеров
- 2) создание лесополос в зоне степей
- 3) вырубка лесов в долинах рек
- 4) осушение болот в верховьях рек
- 5) создание терриконов в местах добычи угля

16. Учащиеся проанализировали собранные данные в целях выявления зависимости между особенностями климата и географическим положением пункта. У всех учащихся выводы получились разные. Кто из учащихся сделал верный вывод на основе представленных данных?

- 1) Дмитрий: «Чем восточнее расположен пункт, тем зимы становятся холоднее».
- 2) Глеб: «Чем восточнее расположен пункт, тем лето становится теплее».
- 3) Елена: «На параллели 50° с.ш. максимум атмосферных осадков выпадает в летнее время».
- 4) Наталья: «Чем ближе к Тихому океану, тем количество атмосферных осадков меньше».

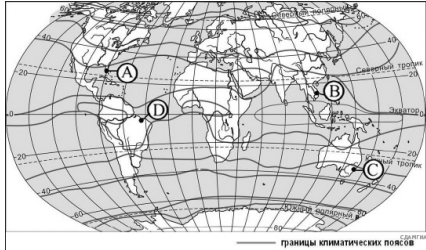
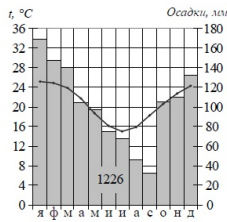
Школьники нашли в Интернете климатические данные для пунктов, расположенных в Евразии на одной параллели, но на разных меридианах. Данные получены на местных метеостанциях в результате многолетних наблюдений. Собранные школьниками данные представлены в следующей таблице.

Пункт наблюдения	Географические координаты пункта наблюдения	Средняя температура воздуха, °С		Атмосферные осадки, норма, мм		Среднегодовое количество атмосферных осадков, мм
		январь	июль	январь	июль	
Александров Гай	50° с.ш. 48° в.д.	-11,1	+23,6	33	23	337
Семипалатинск	50° с.ш. 80° в.д.	-15,8	+21,7	15	34	264
Благовещенск	50° с.ш. 127° в.д.	-23,8	+21,4	4	124	538
Кяхта	50° с.ш. 106° в.д.	-21,6	+19,0	3	85	329

17. В каком из перечисленных населённых пунктов 23 сентября Солнце позже всего по московскому времени поднимется над горизонтом?

- 1) Александров Гай
- 2) Кяхта
- 3) Семипалатинск
- 4) Благовещенск

18. Проанализируйте климатограмму и определите, какой буквой на карте обозначен пункт, характеристики климата которого отражены в климатограмме.



- 1) A
- 2) B
- 3) C
- 4) D

19. Расположите регионы страны в той последовательности, в которой их жители встречают Новый год. Запишите в ответ получившуюся последовательность букв.

- A) Республика Коми
- Б) Кемеровская область
- В) Приморский край

20. Туристические фирмы разных регионов России разработали слоганы (рекламные лозунги) для привлечения туристов в свои регионы. Установите соответствие между слоганом и страной.

СЛОГАН	СТРАНА
A) Насладитесь купанием на одном из чистейших пляжей Атлантики!	1) Испания
Б) Полюбуйтесь фантастическим пейзажем знаменитой долины гейзеров!	2) Финляндия
	3) Куба
	4) Исландия

Запишите в ответ цифры, расположив их в порядке, соответствующем буквам:

А	Б

21. В каких двух высказываниях содержится информация об урбанизации?

- 1) По итогам Всероссийской переписи населения 2010 г. средний возраст жителей страны составлял 39 лет (в 2002 г. — 37,7 лет).
- 2) На 1 января 2012 г. численность городского населения России составила 105 741 983 человека, что на 320 735 человек больше, чем на 1 января 2011 г.
- 3) На 1 января 2013 г. доля городского населения в общей численности населения России составляла 74%.
- 4) В 2010 г. по сравнению с предыдущим годом в России отмечалось увеличение числа родившихся (в 48 субъектах Российской Федерации) и числа умерших (в 52 субъектах).
- 5) Более четверти россиян (26%) проживает в Центральном федеральном округе, где средняя плотность населения составляет 57 человек на 1 км<sup>2</sup>.

22. Используя данные таблицы, определите, в каком году в Московской области наблюдалось наименьшее превышение смертности над рождаемостью.

Изменение численности населения Московской области.

Показатель	2007 г.	2008 г.	2009 г.	2010 г.
Общий прирост населения за год, человек	27	39	40	44
Естественный прирост населения за год, человек	101	809	145	693
Естественный прирост населения за год, человек	-46	-40	-32	-32
Естественный прирост населения за год, человек	816	859	942	076

- 1) 2007 г.
- 2) 2008 г.
- 3) 2009 г.
- 4) 2010 г.

23. Используя данные таблицы, определите величину миграционного прироста населения Московской области в 2010 г. Ответ запишите в виде числа.

**Изменение численности населения Московской области**

Показатель	2007 г.	2008 г.	2009 г.	2010 г.
Общий прирост населения за год, человек	27	39	40	44
Естественный прирост населения за год, человек	101	809	145	693
Естественный прирост населения за год, человек	-46	-40	-32	-32
Миграционный прирост населения за год, человек	816	859	942	076

24. В каких двух из перечисленных регионов России средняя плотность населения наибольшая? Запишите в ответ цифры, под которыми указаны эти регионы.

- 1) Красноярский край
- 2) Хабаровский край
- 3) Самарская область
- 4) Республика Бурятия
- 5) Ленинградская область

25. Расположите перечисленные ниже города в порядке увеличения их высот над уровнем моря. Запишите в ответ получившуюся последовательность букв.

- A) Лондон
- B) Мехико
- B) Мадрид

26. Какие два из перечисленных городов являются центрами алюминиевой промышленности? Запишите в ответ цифры, под которыми указаны эти города.

- 1) Ставрополь
- 2) Тамбов
- 3) Красноярск
- 4) Рязань
- 5) Братск

27. К какому субъекту России принадлежит территория архипелага Франца-Иосифа?

**Острова архипелага Земля Франца-Иосифа.**

15 августа, стартовала комплексная экспедиция Русского географического общества на острова Земли Франца-Иосифа. Участники проекта пройдут с 15 августа по 30 сентября 2019 года по маршрутам первооткрывателей и исследователей архипелага — Юлиуса Пайера, Фредерика Джексона, Эвлины Болдуина, Георгия Брусилова и других.

Участники проекта совершат высадки на острова архипелага Земля Франца-Иосифа, где проведут научные и экологические исследования, изучат объекты военной инфраструктуры советского периода и следы пребывания экспедиций прошлых столетий. Специалисты также изучат объекты военной инфраструктуры советских времён, займутся поиском наших и немецких стоянок времен Великой Отечественной войны. Опыт использования военных объектов будет обобщен в интересах решения проблем расширения военной инфраструктуры в Арктике.

28. В пределах какого климатического пояса располагается территория изучаемого архипелага?

29. Объясните, почему для экспедиции выбран период с 15 августа по 30 сентября?

30. Определите город по его краткому описанию.

Этот город — административный центр области, которая находится в лесостепной и степной природных зонах. Город-миллионер расположен на возвышенном берегу р. Волги, которая делает в этом районе петлю «Лука» и пересекается мощными транспортными магистралями широтного направления. Промышленность представлена производством самолётов, космической техники, оборудования для нефтяной промышленности; нефтеперерабатывающей и пищевой промышленностью и др.